


## *Sommerfest*

1

Im Juli findet ein großes Sommerfest statt. Zwei Frauen verkaufen Rosen an die Gäste. Die erste Blumenverkäuferin hat nach einer halben Stunde schon 232 Rosen verkauft. Die zweite hat in der selben Zeit auch schon 186 Rosen verkauft.

Wie viele Rosen haben sie gemeinsam verkauft?



## *Im Obstgarten*

2

Im Obstgarten des Nussbauers stehen 254 Kirschbäume. Auf einem neuen Grundstück pflanzt er noch einmal 176 Bäume.

Wie viele Bäume stehen nun auf dem Grund des Nussbauers?



## *Flugreise*

3

Auf einer Flugreise nach Australien sind 274 Frauen und 123 Männer an Bord.

Wie viele Fluggäste sind in der Maschine?



## *Im Naturpark*

4

In einem großen Naturpark leben 2 große Giraffenherden. Eine Herde umfasst 389 Tiere. Bei einer noch größeren Herde wurden 435 Tiere gezählt.

Wie viele Giraffen leben im Naturpark?



## *China*

5

In China leben die Pandabären. In freier Natur wurden 645 gesichtet. Einige wurden eingefangen und leben in Zoos. Das sind noch einmal 263 Tiere.

Wie viele Pandabären leben insgesamt in diesem Land?



## *Schmetterlinge*

6

Ein Forscher zählt an einem Tag bei seiner Arbeit 254 Zitronenfalter. Am nächsten Tag hat er weniger Glück. Er sieht nur 129 seiner Lieblingstiere.

Wie viele Zitronenfalter hat er in diesen zwei Tagen entdeckt?




## *Olympia*

7

An einer großen Sportveranstaltung nehmen 462 Jugendliche Athleten teil. Nach den ersten Spielen scheiden bereits 321 Sportler aus.

Wie viele erreichen das Finale?



## *Rosen*

8

Ein Gärtner hat 327 gelbe und 295 rote Rosen zum Verkauf abgeschnitten und verpackt.

Wie viel Rosen kann er insgesamt verkaufen?




## *In der Bibliothek*

9

In der Schulbibliothek stehen 645 Bücher zum Ausleihen bereit.  
Davon sind 257 Bilderbücher für kleine Kinder.  
Der Rest der Bücher ist für Kinder im Schulalter geeignet.

Wie viele Bücher stehen für die Schulkinder zum Lesen bereit?



## *Hühnerhof*

10

Auf einem großen Bauernhof leben 291 Hühner und 168 Küken. Da hat der Bauer viel Arbeit.

Wie viele Tiere hat er am insgesamt am Tag zu versorgen?

